





Série : Les maths

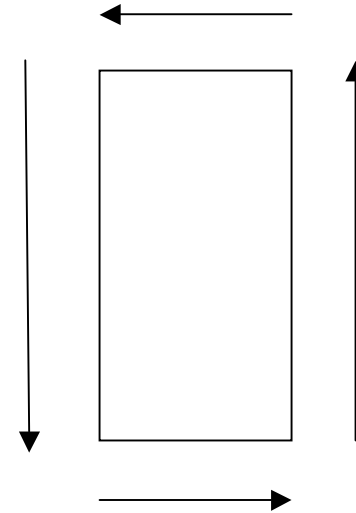

Le périmètre



Le périmètre

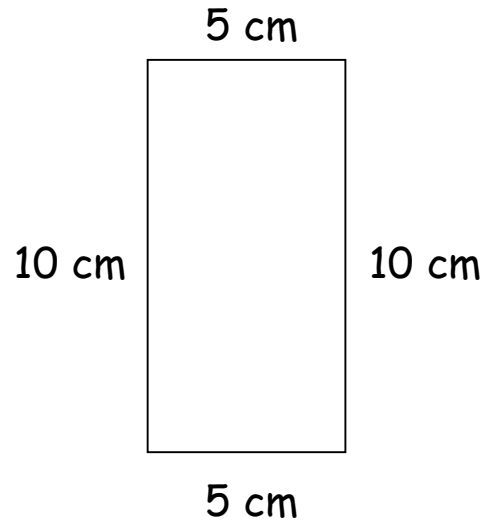


Le périmètre



Le périmètre, c'est *la distance autour de quelque chose.*

Ici, c'est la distance autour du rectangle.

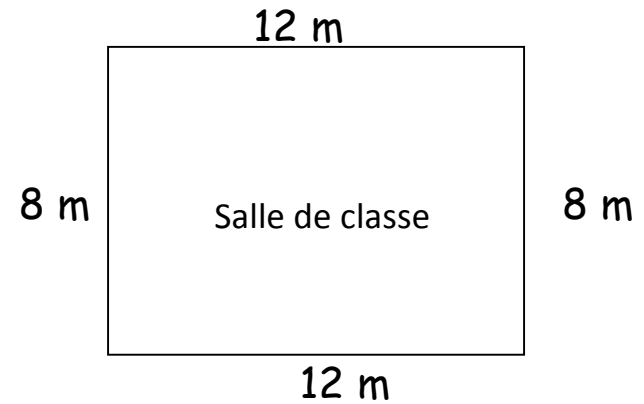


Quel est le périmètre de ce rectangle ?

C'est la distance autour du rectangle.

$$10 \text{ cm} + 10 \text{ cm} + 5 \text{ cm} + 5 \text{ cm} = 30 \text{ cm}$$

Le périmètre du rectangle est **30 cm.**



Pour trouver le périmètre de ta salle de classe, il faut mesurer la longueur des murs.