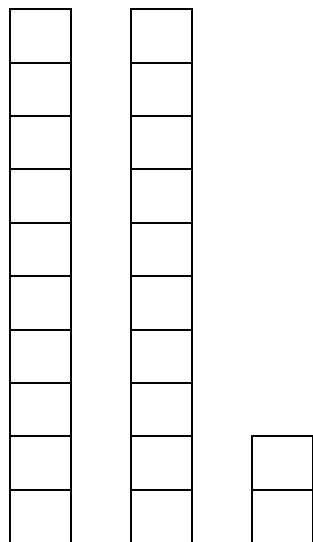
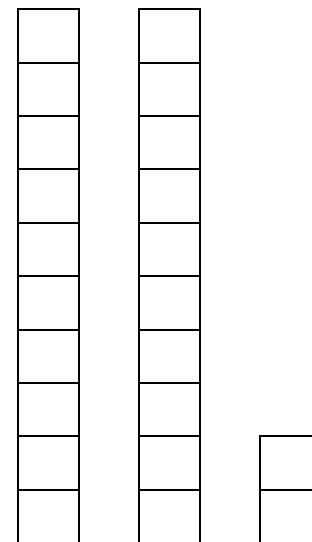


Série : Les maths

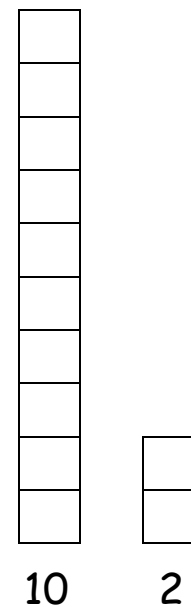
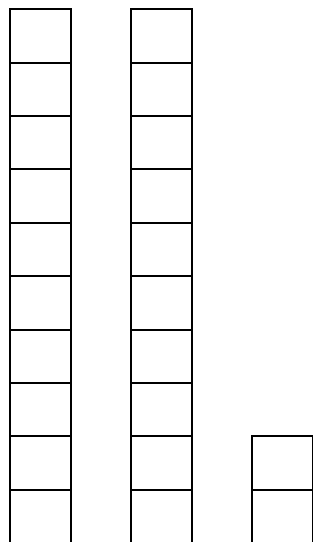
Le matériel de base 10



Le matériel de base 10



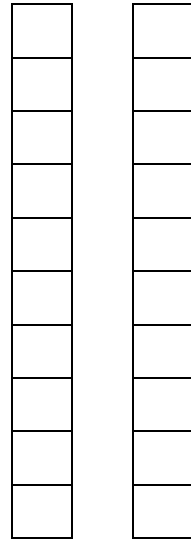
Le matériel de base 10



Quel nombre représente le
matériel de base dix ci-dessus ?

C'est 12.

$$10 + 2 = 12.$$



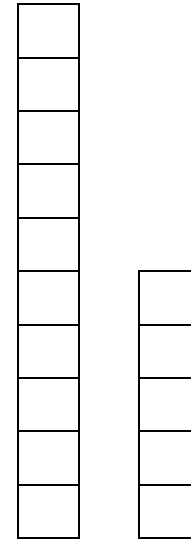
10

10

Quel nombre représente le matériel de base dix ci-dessus ?

C'est 20.

$$10 + 10 = 20$$



10

5

Quel nombre représente le matériel de base dix ci-dessus ?

C'est 15.

$$10 + 5 = 15.$$