





Série : Les maths

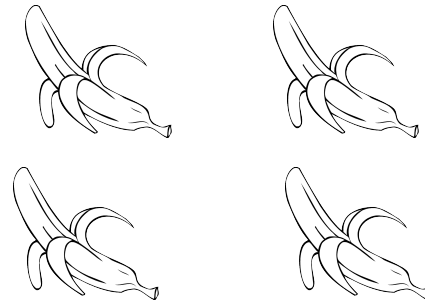


Combien dans
chaque groupe ?



Combien dans
chaque groupe ?



Combien dans
chaque groupe ?





Fais 2 groupes égaux de
bananes.

Combien y a-t-il dans
chaque groupe ?



Fais 2 groupes égaux de
pommes.

Combien y a-t-il dans
chaque groupe ?



Fais 2 groupes égaux
d'ananas.

Combien y a-t-il dans
chaque groupe ?